


Prueba ORM 2020 de 1º y 2º Grado

1. ¿Una caja rectangular negra se esconde parcialmente detrás de una cortina azul, ¿qué forma tiene la figura que está escondida?



- a) Un hexágono
- b) Un rectángulo
- c) Un círculo
- d) Un cuadrado
- e) Un Triángulo

2. En la casa de Juan hay muchos objetos y ahora te muestro algunos. ¿Cuántos de los objetos que te mostré deben estar en la cocina de Juan?



- a) 7
- b) 4
- c) 5
- d) 2
- e) 3

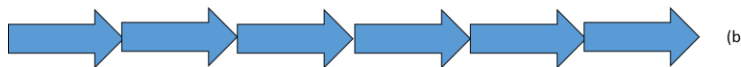
3. Isabel tiene un grupo de estrellas doradas para pegar en el techo de su habitación (izquierda). Su mamá guardó varias en una caja, y solamente le dejó este grupito (derecha) para colocar en el techo, ¿cuántas estrellas metió en la caja la mamá de Isabel?



- a) 10
- b) 4
- c) 6
- d) 9
- e) 5

4. ¿Qué día fue ayer si pasado mañana será sábado?
- a) Domingo
 - b) Martes
 - c) Lunes
 - d) Jueves
 - e) Miércoles

5. Daniel y Ernesto tienen entre los dos 9 colores. Daniel tiene uno más que Ernesto, ¿cuántos colores tiene cada uno?
- Daniel y Ernesto 3
 - Daniel 5 y Ernesto 4
 - Daniel 4 y Ernesto 5
 - Daniel 7 y Ernesto 2
 - Daniel 8 y Ernesto 1
6. José está con su papá en el automóvil, en la cola para echar gasolina. Delante de ellos hay tres vehículos pequeños, dos camionetas, dos motocicletas y un camión, ¿en qué puesto de la cola está el carro del papá de José?
- Cuarto
 - Noveno
 - Octavo
 - Quinto
 - Séptimo
7. Pablo usa una flecha (a) que mide 3 centímetros, para calcular el ancho de una ilustración y obtiene lo que se muestra en (b). ¿Cuántos centímetros de ancho tiene la ilustración?



- 9
- 12
- 6
- 10
- 18

8. Karla cumple años hoy, ¿en qué año nació Karla?



- 2009
- 2015
- 2010
- 2011
- 2020


9. La maestra Anabella hace tres conexiones diarias de 40 minutos, por Internet, con sus alumnos. ¿Cuántas horas al día ella permanece conectada con sus alumnos?



- 3
- 5
- 4
- 2
- 1

10. A Carmen le regalaron una bolsa con chocolates que acabó en 3 días. El primer día se comió dos chocolates y en los días siguientes se comió un chocolate más que el día anterior. ¿Cuántos chocolates tenía la bolsa? Cinco amigos juegan a decir números de manera progresiva: Ana dice 4, Beto dice 7, Claudia dice 10, David dice 13, Eduardo dice 16 y siguen diciendo números en ese orden. ¿Quién será el primero en decir un número mayor que 30?
- a) 3
 - b) 15
 - c) 4
 - d) 5
 - e) 9
11. Cinco amigos juegan a decir números de manera progresiva: Ana dice 4, Beto dice 7, Claudia dice 10, David dice 13, Eduardo dice 16 y siguen diciendo números en ese orden. ¿Quién será el primero en decir un número mayor que 30?
- a) Ana
 - b) Beto
 - c) Eduardo
 - d) David
 - e) Claudia

12. Micaela abre una gaveta donde tiene unas piezas de madera y ve lo que se muestra en la imagen. Micaela tiene que dar una pista verdadera sobre lo que hay en la gaveta. ¿Cuál de las siguientes pistas es la que debe dar?



- a) Hay menos círculos que triángulos
- b) Hay más triángulos que círculos
- c) Hay tantos círculos como cuadrados y triángulos juntos
- d) Hay más cuadrados que triángulos
- e) Hay tantos círculos como cuadrados