
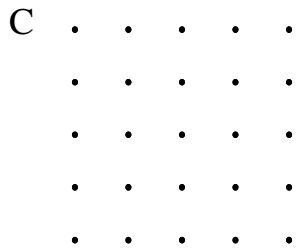
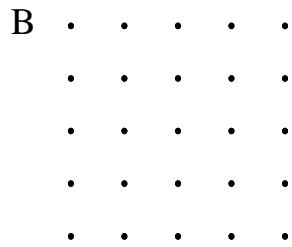

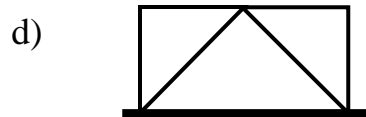
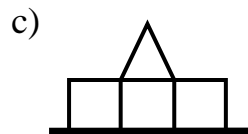
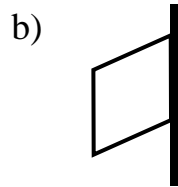
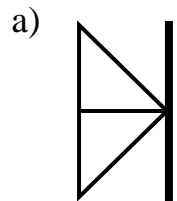


5. – Dibuja un cuadrado en cada geoplano y divídelo en cuatro partes iguales, de distinta forma, en cada caso:



6. – Supón que colocas un espejo en la raya gruesa. Dibuja la imagen reflejada en cada caso:



DATOS PERSONALES:

NOMBRES _____

APELLIDOS _____

EDAD _____ SEXO _____

ESCUELA _____

ESTADO _____

1. – Escribe los números que faltan en los cuadrillos vacíos:

a)

3	6		12	15
5	8	11		17

b)

1	4	3		5
5	8	7		9

c)

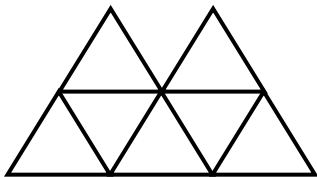
8	5	12	9	
3	10	7		13

d)

2	1	3	3	4
4	3	4	5	
2	2	1	2	2

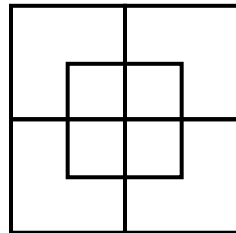
2. –

a) ¿Cuántos triángulos hay en la figura?



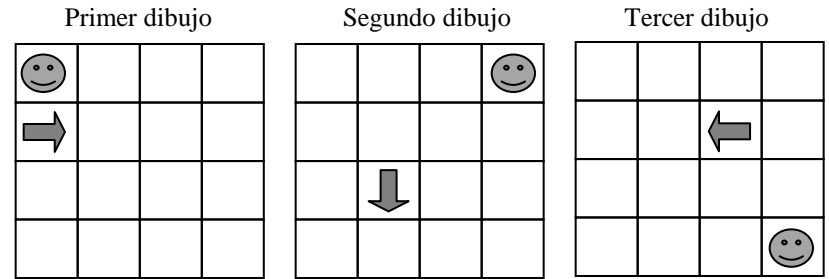
Hay _____ triángulos

b) ¿Cuántos cuadrados hay en la figura?



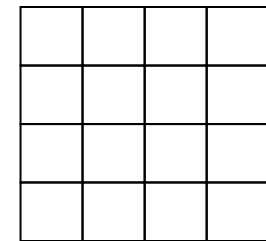
Hay _____ cuadrados

3. – Observa la secuencia de dibujos:




Dibuja en el cuarto dibujo la carita y la flecha en sus casillas, siguiendo el patrón:

Cuarto dibujo



4. – Sigue el patrón, ¿cuántas latas en total necesita colocar Pedro para que en la última fila quede una sola?



Pedro necesita _____ latas. Explica: _____
