




Olimpiada Infantil de Matemática
Prueba Final Regional
Primer grado



2016

Datos del Estudiante:

Apellidos: _____ Nombres: _____

Edad: _____ Instituto: _____ Ciudad: _____

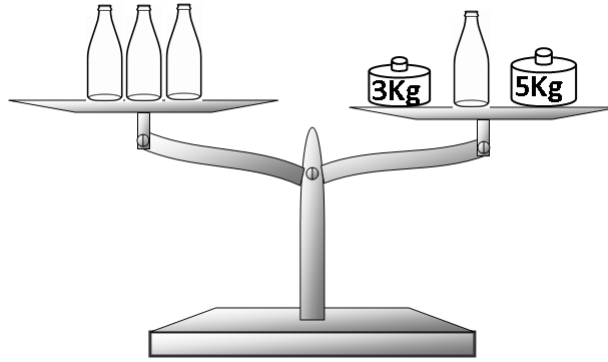


1. Andrea arma números usando dos de las tarjetas:
 - a) Escribe todos los números de dos cifras que puede armar:

 - b) ¿Cuál es el mayor número de dos cifras que puede armar? _____
 - c) ¿Cuál es el menor número de dos cifras que puede armar? _____

2. Luis tiene seis mangos más que Pedro y Pedro tiene tres mangos más que Ana. Si Pedro tiene 13 mangos,
 - a) ¿Cuántos mangos tiene Luis? Explica tu respuesta.
 - b) ¿Cuántos mangos tiene Ana?
 - c) ¿Cuántos mangos más que Ana tiene Luis?

3. Adrián escribió los números del 10 al 40 ¿Cuántas veces escribió el 1?



4. Observa la balanza:

- a) ¿Cuánto pesa una sola botella? _____
- b) ¿Cuánto pesan dos botellas? _____
- c) ¿Cuánto pesan todas las botellas juntas? _____

5. Con una botella de agua se llenan 4 vasos.

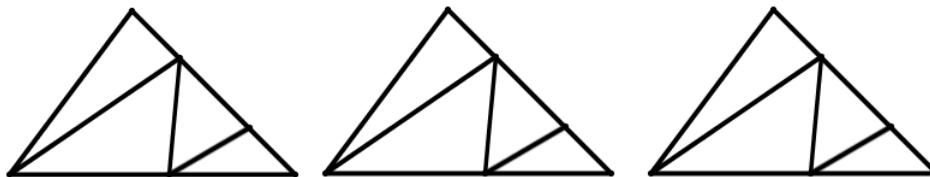
- a) ¿Cuántos vasos se pueden llenar con dos botellas? _____
Explica tu respuesta

- b) ¿Cuántas botellas necesitas para llenar 10 vasos vacíos? _____
Explica tu respuesta

- c) Si quedan 10 botellas vacías y dos por la mitad
¿Cuántos vasos se llenaron? _____
Explica tu respuesta

6. Abajo aparece cuatro veces la misma figura.

Colorea todos los triángulos distintos que puedas.



¿Cuántos triángulos distintos coloreaste? _____