

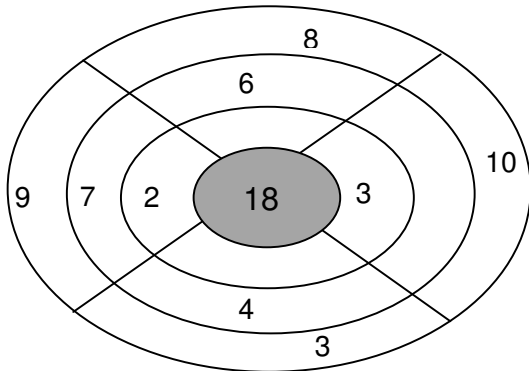
5. – Resuelve:

A) Soy un número par, mayor que 11 y menor que 16.
¿Quién puedo ser?

B) Soy un número impar, menor que 12 y mayor que 9
¿Quién puedo ser?

C) Soy un número de dos dígitos (o dos cifras). La suma de mis dígitos es 6.
¿Quién puedo ser?

D) Escribe los números que falta para completar el blanco 18:



6. – Utiliza los números 3, 5 y 8 para completar la siguiente historia:

“Pedro es el niño mayor. Él tiene _____ años.

Ana es mayor que Inés. Inés tiene _____ años y

Ana tiene _____ años”



PRUEBA REGIONAL PRIMER GRADO

DATOS PERSONALES:

NOMBRES _____

APELLIDOS _____


EDAD _____ **SECCIÓN** _____

ESCUELA _____

ESTADO _____

1. – Escribe el nombre de cada niño, sabiendo que:

- Marcos no tiene sombrero
- Luis no tiene sombrero ni pantalones largos
- Guillermo no tiene tirantes
- Juan no tiene camisa manga larga



2.- Resuelve:

A) Observa la serie. Dibuja la figura que sigue:

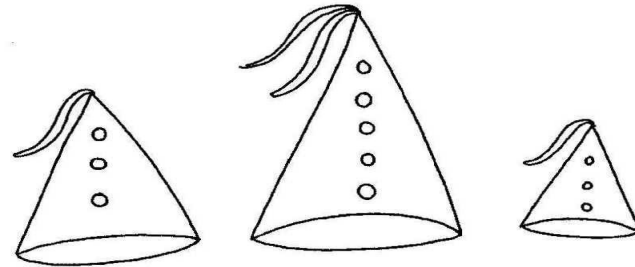


B) Observa cada serie. Escoge, a la derecha, la figura, letra o número que sigue y encierra en un círculo:


P, Q, R, P, Q, R, P, ...	P Q R
1, A, 2, A, 3, A, 4, A, 5, ...	6 A 7

3. – Colorea cada sombrero sabiendo que:

- El sombrero verde está entre el azul y el rojo
- El rojo está hacia tu derecha



4. – Cada columna representa el número de alumnos que han visitado otros estados:



¿Cuántos alumnos han visitado más de un estado? _____

¿Cuántos alumnos han visitado más de dos estados? _____

¿Cuántos alumnos han visitado menos de tres estados? _____