


FUNDECOM

Fundación para el Desarrollo
de Competencias Matemáticas



Prueba Preliminar
PRIMER GRADO

Datos Personales:

Nombres: _____

Apellidos: _____

Edad: _____


Datos de la Institución:

Estado: _____

Colegio: _____

Grado: _____

Instrucciones:

- En las primeras (5) cinco preguntas debes rellenar así  la letra correspondiente a la alternativa correcta de cada pregunta.
- En las (5) cinco preguntas siguientes escribe o dibuja la respuesta que consideres correcta



1. Usando dos de las cuatro tarjetas:

¿cuál es el mayor número de dos cifras que puedes armar?

- (A) 77 (B) 67 (C) 76 (D) 96 (E) 75

2. Lucía cumple años el mes que se escribe con más letras. ¿Cuál es ese mes?

- (A) Diciembre (B) Noviembre (C) Febrero (D) Septiembre (E) Octubre

3. Víctor agrega 6 pelotas de tenis a cada caja con otras pelotas que le entregan.

¿Qué cantidad de pelotas, que no son de tenis, había en una caja que tiene 32 pelotas en total?


- (A) 15 (B) 20 (C) 24 (D) 26 (E) 38

4. Luis tiene tres metros más que Pedro y Pedro tiene cinco metros más que Juan. Si Juan tiene catorce metros, ¿Cuántas metros tiene Luis?

- (A) 3 (B) 8 (C) 4 (D) 19 (E) 22


5. Raúl escribió los números del 1 al 30 ¿Cuántas veces escribió el 2?

- (A) 1 (B) 2 (C) 12 (D) 13 (E) 20



6. Observa la balanza:

a) ¿Cuánto pesa cada  ? _____

b) ¿Cuánto pesan todas las  juntas? _____

7. Daniela y Ernesto tienen ambos juntos 9 colores. Daniela tiene uno más que Ernesto. ¿Cuántos colores tiene cada uno? Dibuja la cantidad de colores que tiene cada uno y explica tu respuesta



Explica tu respuesta:

8. Inés cumplió 5 años en el 2015 ¿Cuántos años cumplirá en el año 2021?
Explica tu respuesta.



9. Colorea cada pieza del rompecabezas según el color de las piezas sueltas.

