

OLIMPIADA INFANTIL DE MATEMÁTICA
2012
Vigésimo aniversario de ORM
PRUEBA PRELIMINAR
PRIMER GRADO

DATOS PERSONALES:

Nombres: _____

Apellidos: _____

Edad: _____ Sección: _____

Escuela: _____


Estado: _____

INSTRUCCIONES:

- En las primeras cinco (5) preguntas debes rellenar así la letra correspondiente a la alternativa correcta de cada pregunta.

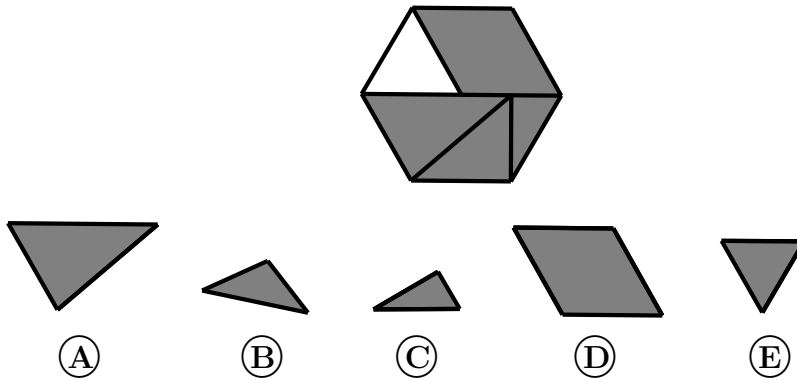
- En las cinco (5) preguntas siguientes escribe o dibuja la respuesta que consideres correcta.

1. ¿Cuántos animales hay en el dibujo?




- (A) 3 (B) 4 (C) 5 (D) 6 (E) 7

2. Observa el dibujo. ¿Cuál pieza encaja en el lugar vacío?



3. Observa los animales ¿Cuántas patas hay en total?

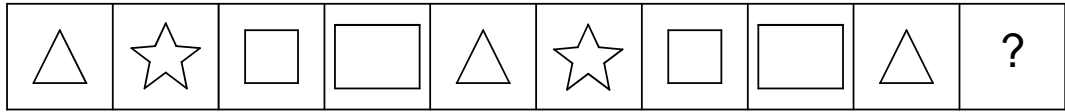


- (A) 5 (B) 10 (C) 12 (D) 14 (E) 20

4. Elena escribe la palabra ARAGUA dos veces.
¿Cuántas veces escribió la letra A?

(A) 2 (B) 3 (C) 4 (D) 5 (E) 6

5. Raúl repite las mismas cuatro figuras en una franja.



- ¿Cuál es la décima figura en la franja?



(A)



(B)



(C)



(D)




(E)

6. El viernes Daniel comienza a pintar la palabra GLOBO.
Cada día pinta una letra.

Daniel pinta la última letra el día: _____


7. Pinta únicamente tres naranjas de azul y una de verde:



8. Juan, Ana y Cecilia dan un paseo de bicicleta. Dos de ellos van en triciclos.

¿Cuántas ruedas hay en total? _____

9. Colorea el siguiente árbol con cuatro colores de manera que dos zonas que compartan frontera no estén coloreadas del mismo color.



10. Observa la tabla donde se expresan los frutos preferidos de María, José Juan y Petra:

Amigos/Frutos	Mango	Cambur	Piña	Melón
María	X		X	X
José	X	X		
Juan	X	X		
Petra			X	

- a) ¿Cuál es la fruta más preferida? _____
- b) ¿Cuál es la fruta menos preferida? _____
- c) ¿A quién le gustan más frutas? _____