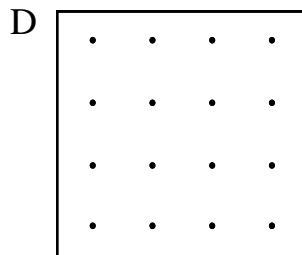
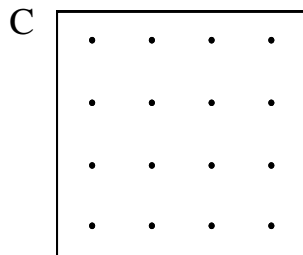
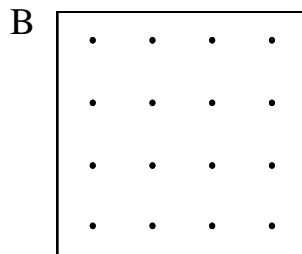
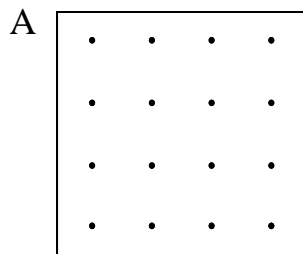
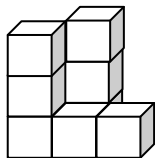


5. – Dibuja un triángulo en cada geoplano de tal forma que el número de puntos del geoplano en los lados de los triángulos sea diferente:



6. – Observa la figura:



¿Cuántos cubos tiene la figura? _____

Dibuja un cubo que tenga igual número de cubos como la figura anterior:

PRUEBA PRELIMINAR PRIMER GRADO

DATOS PERSONALES:

NOMBRES _____

APELLIDOS _____

EDAD _____ **SECCIÓN** _____

ESCUELA _____

ESTADO _____

1. - Utiliza sumas y restas para escribir de ocho formas diferentes el número 7.

1. _____ 2. _____


3. _____ 4. _____

5. _____ 6. _____

7. _____ 8. _____

2. -

A) Descubre el patrón de cada serie y dibuja los dos términos que siguen:

1.-  _____, _____

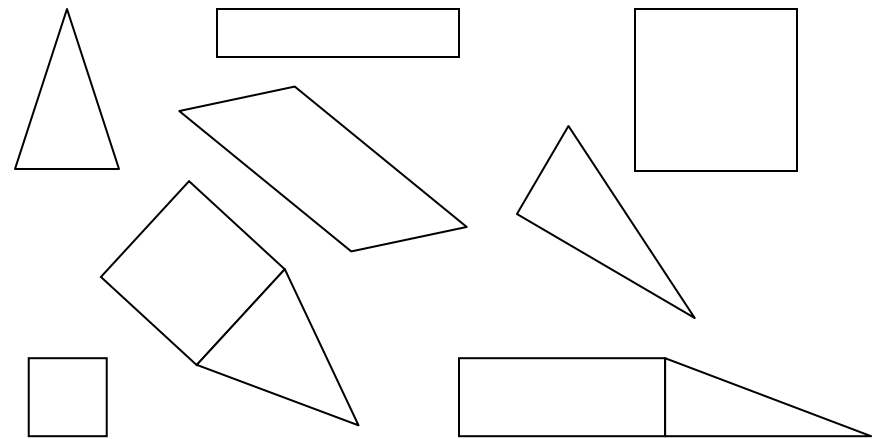
2.-  _____, _____, ...

B) Escribe los dos términos que siguen:

1.- 7, 8, 10, 13, _____, _____, ...

2.- 20, 19, 17, 14, _____, _____, ...

3. - Colorea de azul los triángulos solos, de verde los cuadrados solos, de amarillo los rectángulos solos que no son cuadrados y de rojo las figuras formadas de cuadrados y triángulos.



4. - Colorea de verde los globos con números pares mayores que 10 y de azul los globos con números impares menores que 10

