

5.- Observa la secuencia de figuras:



Fig. 1



Fig. 2

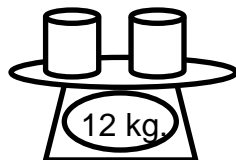
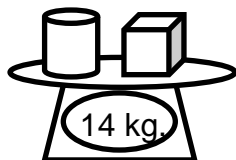


Fig. 3

a) Imagínate la figura con seis triángulos, ¿Cuántos cuadrados hay en esa figura?

b) ¿Cómo puedes saber el número de cuadrados en una figura si conoces el número de triángulos de esa figura?

6.- Observa las balanzas:



a) ¿Cuánto pesa el cubo?

b) ¿Cómo sabes cuánto pesa el cubo?

OLIMPIADA RECREATIVA DE MATEMÁTICA
PRIMER GRADO
OLIMPIADAS INFANTILES DE BARCELONA

Mis datos:

Nombres y Apellidos

Edad: _____

Sexo: _____


Colegio

2008

1.- Observa y responde según el costo de cada producto.



Bs. 7



Bs. 10



Bs. 1



Bs. 4

a) ¿Cuánto dinero debes tener para comprar el helado y la chupeta?

b) Si tienes Bs. 4, ¿cuánto dinero te falta para comprar las uvas?

b) Si pagas el chocolate con Bs. 20, ¿cuánto dinero te dan de vuelto?

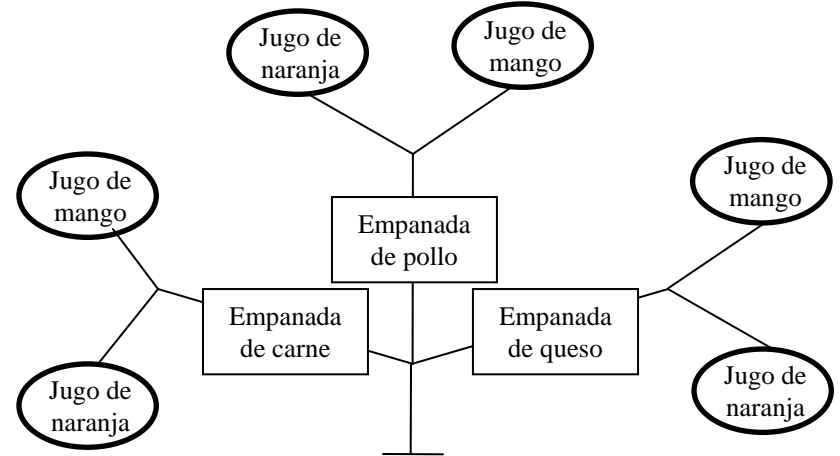
2.- En cada caso escribe los números que siguen:

a) 1, 3, 5, 7, 9, __, __, __, __

b) 1, 2, 4, 7, 11, __, __, __, __

c) 0, 6, 12, 18, 24, __, __, __, __

3.- El menú de la cantina del colegio se presenta así:



a) ¿Cuántas combinaciones de desayunos puedes pedir?

b) Escribe tres combinaciones de desayunos que puedes pedir:

4.- Realiza grupos de tres estrellas:



a) ¿Cuántos grupos hiciste? _____

a) ¿Cuántas estrellas en total? _____