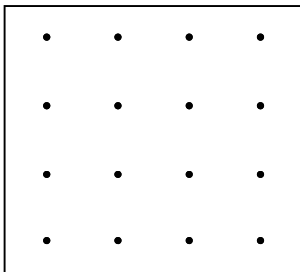
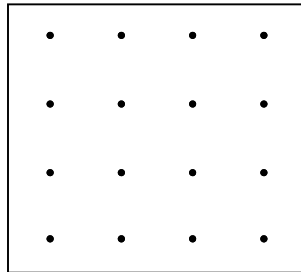
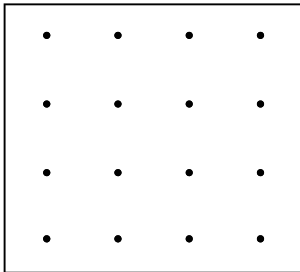
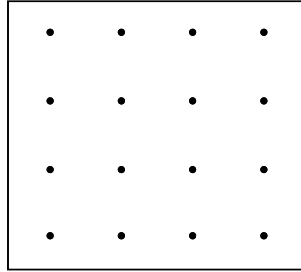
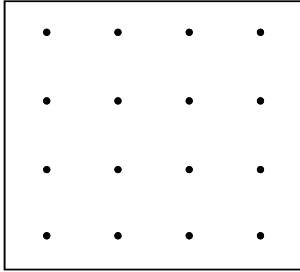


3.- Las figuras representan geoplanos. Dibuja un cuadrado en cada geoplano. Los cuadrados deben ser todos de diferentes tamaños.



# OLIMPIADA RECREATIVA DE MATEMÁTICA

## PRUEBA FINAL

### PRIMER GRADO

Datos del Alumno :

Nombres

Apellidos

Edad:

Sexo:  F  M


Colegio:

Ciudad:

Estado:

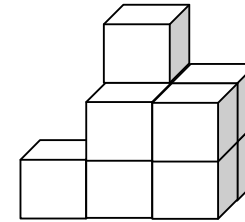
**2006**

1. José es más alto que Mario, Mario es más alto que Luís.  
Escribe el nombre de cada uno



\_\_\_\_\_

2.- Puedes ver dos lados y la parte superior de este cuerpo  
construido con cubos.



¿Cuántos cubos tiene el cuerpo? \_\_\_\_\_

Colorea los cuerpos que se puedan construir con la misma  
cantidad de cubos que el cuerpo anterior

